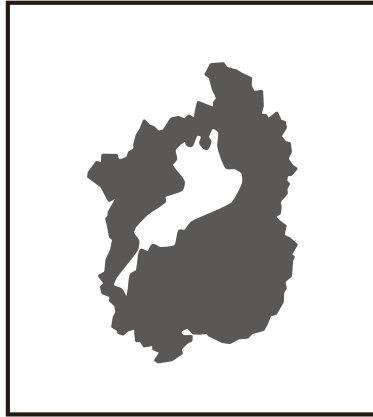


# この形，何県？

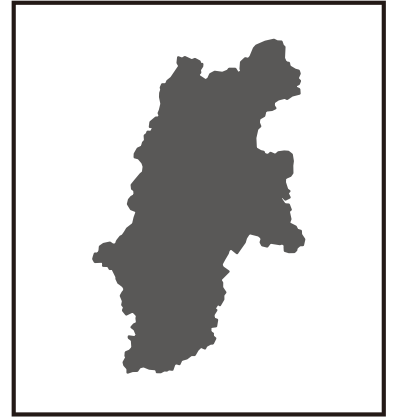
何県の形かな？ ヒントを読んで当ててみましょう。



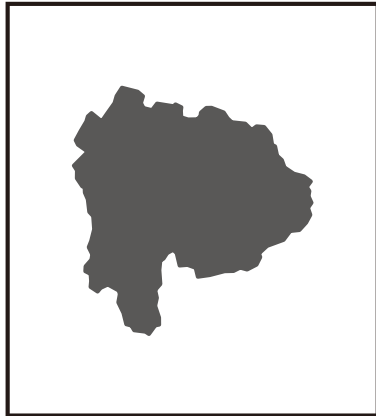

①「ひめじじょう姫路城」がいさん世界遺産に登録されたよ。  
( ) 県



②日本で一番大きな湖があるよ。  
( ) 県



③日本で一番高いところにある駅があるよ。  
( ) 県



④静岡県との間に、日本一高い山があるよ。  
( ) 県



⑤本州最北端。大きな山車で有名なお祭りがあるよ。  
( ) 県

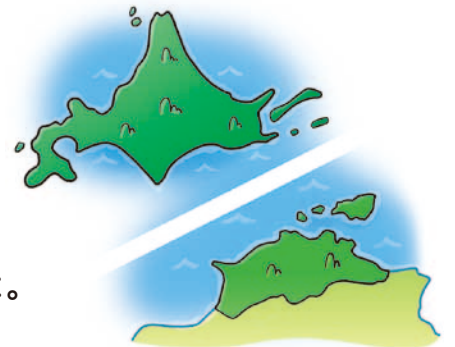


\*だし山車…お祭りのときに引く，さまざまなかさ飾り物をつけた屋台のこと。

上の①～⑤を面積の大きい順に並べてみましょう。

ヒント：上の大きさは参考にならないよ。

日本で一番広いのは北海道，一番狭いのは香川県だよ。



答え ( ) → ( ) → ( ) → ( ) → ( )